



Allemaal vragen



Hoe heten de lijntjes door noten die niet op de notenbalk passen

.....



Hoe heet deze sleutel

.....

Spelen de instrumenten die deze sleutel gebruiken hoog of laag

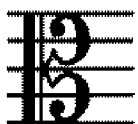
.....



Welke sleutel is hier gebruikt


.....

Spelen de instrumenten die deze sleutel gebruiken hoog of laag



Dit is de

.....



Hoe geef je aan dat de tonen een oktaaf hoger gespeeld moeten worden.....

En een oktaaf lager.....

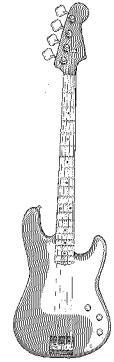
Welke sleutel??

Zet een cirkel om de instrumenten die met een F-sleutel spelen,
Welke instrumenten spelen met beide?
(vul in op de stippellijnen)

.....en.....




trombone



Basgitaar



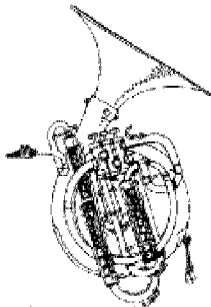
Trompet



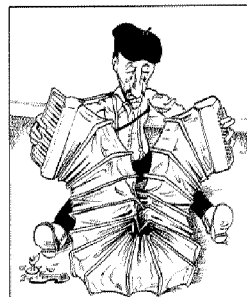
Gitaar



Altsaxofoon



bastuba



Accordeon



Cello



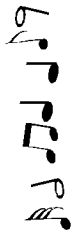
Blokfluit



Piano

Welke sleutel??

Zet een cirkel om de instrumenten die met een G-sleutel spelen



bariton



Fagot




Trompet



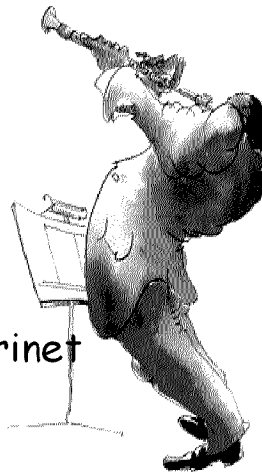
Baritonsaxofoon



Fluit



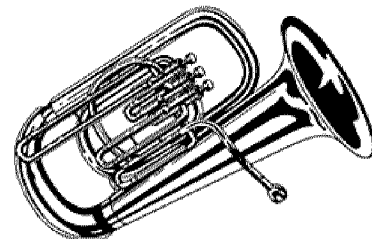
Gitaar



Klarinet




Viool



euphonium


Toonladders



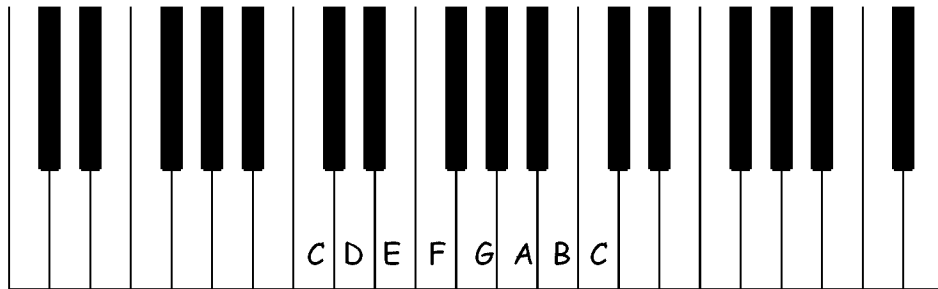
Een toonladder is een soort trap, waarvan de treden niet allemaal even ver uit elkaar zitten.

Teken hierboven een trap (toonladder) met de goede afstanden.


Let op !! heel, heel, half
heel, heel, heel, half






Toonladders




Hier zie je een toonladder op pianotoetsen
Kruis aan waar de halve toonsafstanden zitten



Schrijf nu zelf een toonladder in de notenbalk
Kruis aan waar de halve afstanden zitten



Puzzel



de



Stuur

Zing

Geef

Het

Een

De

Rijken

Armen



Knappen

Omcirkel het woord dat bij het plaatje hoort
Wat is de oplossing



Welke begintoon heeft de toonladder met
1 kruis, 2 kruisen, 3 kruisen
Noteer het antwoord op de stippellijn

Puzzel



Friese

Spaanse

Duitse

Jongens

Agenten

Boeren

Zoenen

Eten

Slapen

Omcirkel het woord dat bij het plaatje hoort
Wat is de oplossing

.....




.....

.....

.....

Welke begintoon heeft de toonladder met
1 mol, 2 mollen, 3 mollen
Noteer het antwoord op de stippellijn

Kun je de begrippen vinden ??



Geef aan met letter

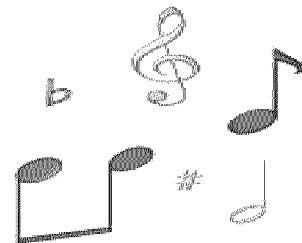

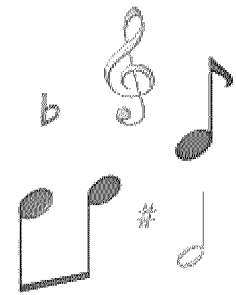
A. het maatteken (de maatsoort)

B. een maatstreep

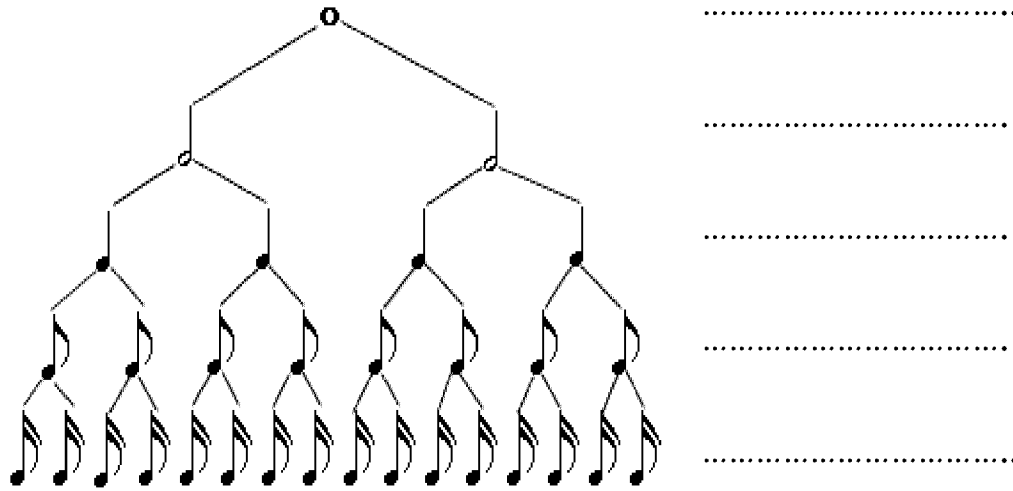
C. de dunne dubbele maatstreep

D. de dubbele maatstreep

E. een hele maat




Van groot naar nog kleiner



Hoe heten de noten die je hierboven ziet
Schrijf de namen op de stippellijnen ernaast



Maak een liedje met de noten die hierboven staan
Pas op...let op de maatsoort !!!!





Hier komen de rusten die bij de noten horen, vul de letters in achter de cijfers, streep de letters door die je gebruikt hebt

	A		
	B		
	C		
1....	D		5.... 
2....	E		6.... 
3....	F		7.... 
4....	G		8.... 
	H		

Allemaal vragen



4
4


Dit betekent

.....
.....



Deze noten mag je

.....



Hier speel je de noten

.....



En hier speel je

.....



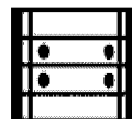

Aan deze letters onder de noten kun je zien

.....



Als dit teken onder de noten staat moet je

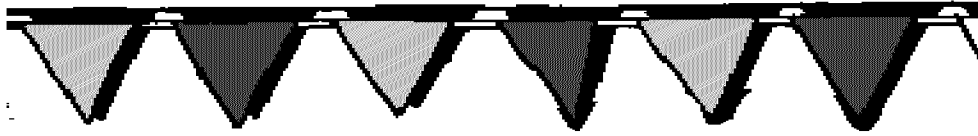
.....




Bij dit teken moet je

.....

Maat en ritme



Zet een cirkel om de noot die 1 tel is





Zet een cirkel om de noot die 2 tellen is



Een raar liedje

Zoek de fouten





Bij dit teken moet je

.....

Het teken heet

.....




Omcirkel de noten die langer gemaakt zijn

Weet je nog een manier om een toon langer te maken?

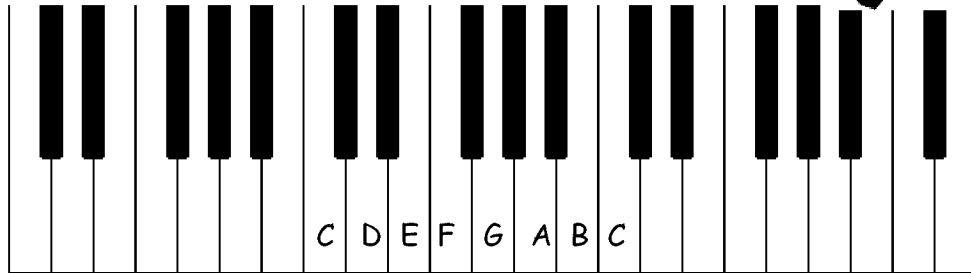
.....

Vul de letter van de maat die erbij hoort in op de stippeltjes achter het cijfer


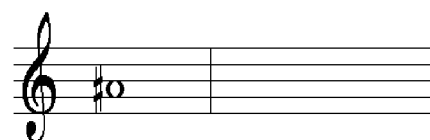
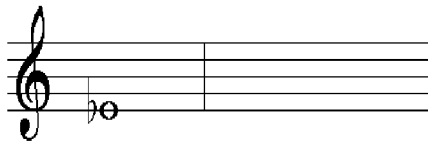
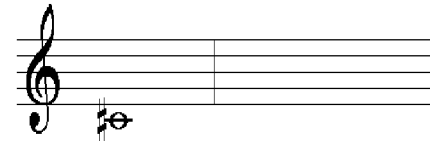
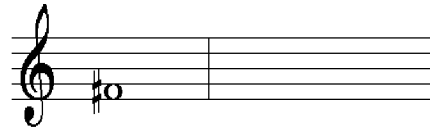
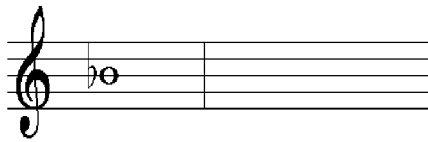





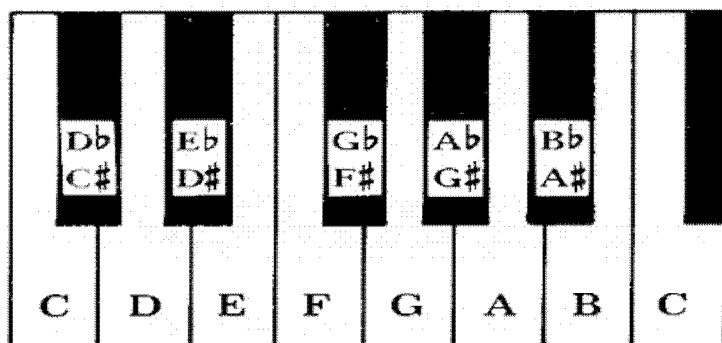
Enharmonische tonen





Schrijf met behulp van de pianotoetsen de
enharmonisch gelijke toon in de lege maat




Enharmonische tonen



Welke enharmonische tonen zie je nog meer?
Schrijf ze in de lege maten, net als in het voorbeeld



Omcirkel het woord dat erbij hoort



Zeer langzame beweging

Andante
Largo
Presto
Allegro
Moderato




Matig langzame beweging

Andante
Largo
Presto
Allegro
Moderato



Matig snelle beweging

Andante
Largo
Presto
Allegro
Moderato



Snelle beweging

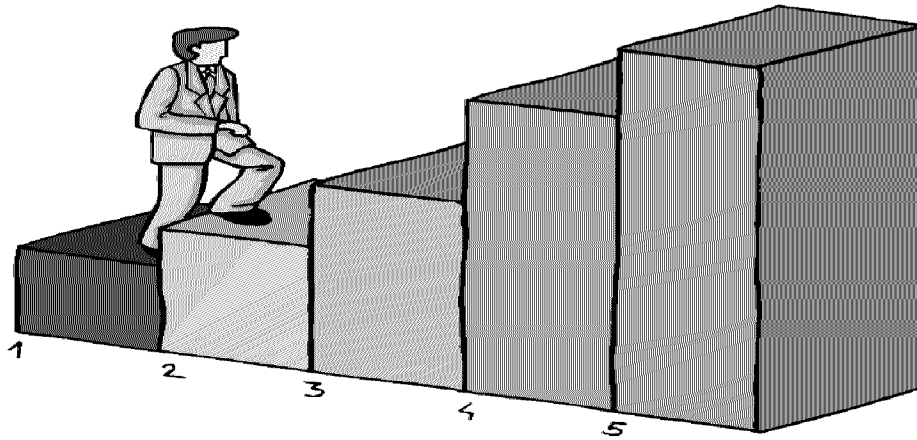
Andante
Largo
Presto
Allegro
Moderato



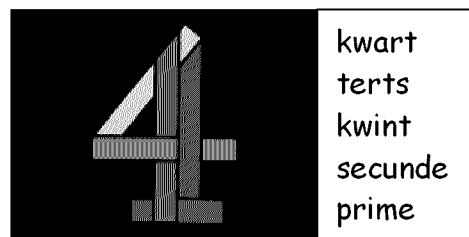




Zeer snelle beweging

Andante
Largo
Presto
Allegro
Moderato

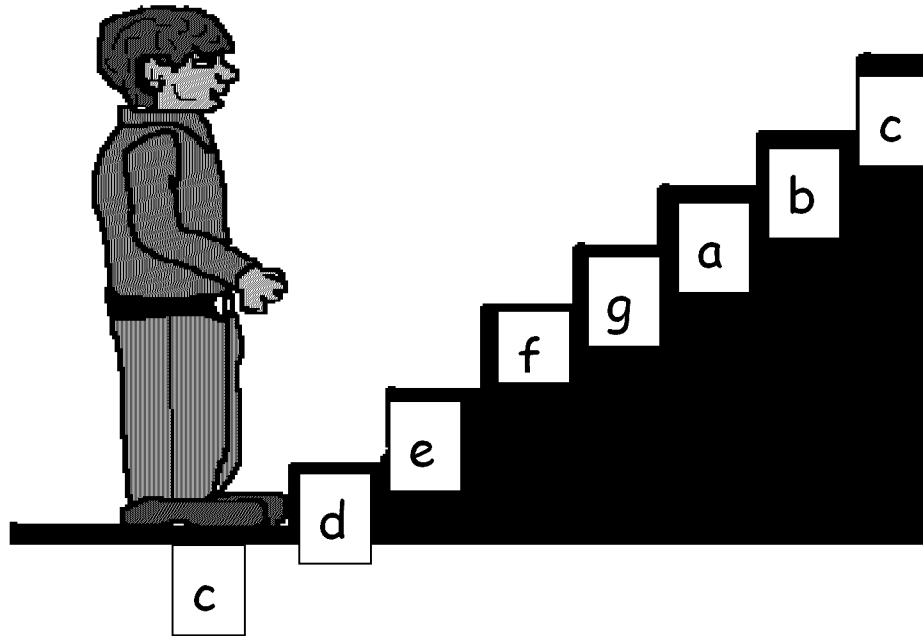
intervallen




Omcirkel de juiste naam




Intervallen invullen




Wat is een kwart op C




Wat is een secunde op C




Wat is een prime op C




Wat is een kwint op C



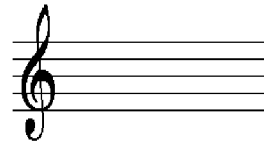
Wat is een terts op C



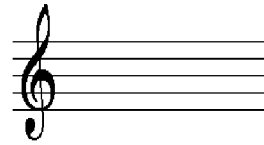
Intervallen invullen



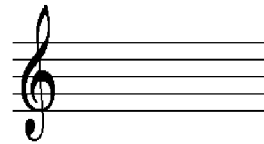
Wat is een kwint op F




Wat is een prime op F



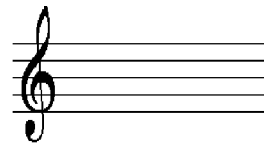
Wat is een kwart op F



Wat is een secunde op F



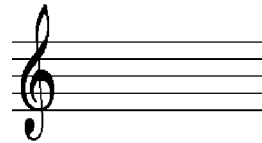
Wat is een terts op F




Intervallen invullen




Wat is een terts op G




Wat is een kwint op G




Wat is een secunde op G



Wat is een prime op G




Wat is een kwart op G



stamtonen



Dit zijn de **stamtonen**
Schrijf ze in de lege notenbalk zelf ook
een keer



<input type="checkbox"/>	<input type="checkbox"/>	<input type="checkbox"/>	<input type="checkbox"/>	<input type="checkbox"/>	<input type="checkbox"/>	<input type="checkbox"/>	<input type="checkbox"/>
--------------------------	--------------------------	--------------------------	--------------------------	--------------------------	--------------------------	--------------------------	--------------------------

Schrijf de notennamen in de hokjes

